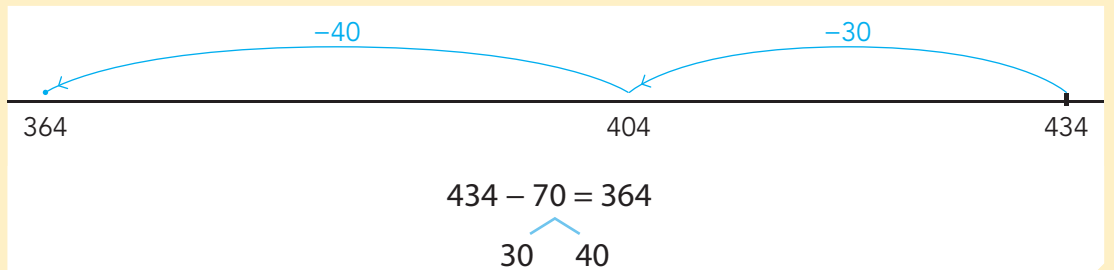




doel 1

► Je oefent aftrekken tot en met 1000 in maximaal 2 sprongen met de strategie: rijgen, bij sommen als $434 - 70$.

hulp



1

Reken uit in 1 sprong.

$605 - 40 = \underline{565}$

$104 - 50 = \underline{54}$

$408 - 70 = \underline{338}$

$306 - 80 = \underline{226}$

$209 - 30 = \underline{179}$

$902 - 20 = \underline{882}$

$807 - 90 = \underline{717}$

$405 - 20 = \underline{385}$

$503 - 10 = \underline{493}$


$109 - 50 = \underline{59}$

$701 - 60 = \underline{641}$

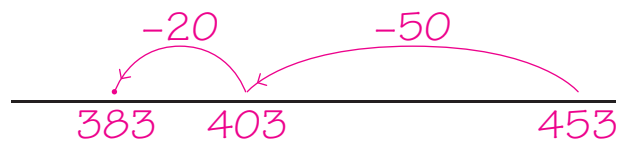
$602 - 40 = \underline{562}$

2

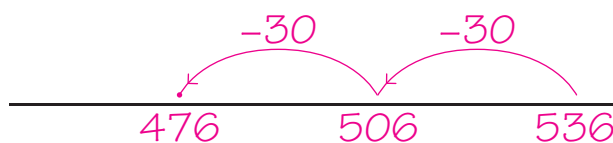
Reken uit op de getallenlijn in 2 sprongen.



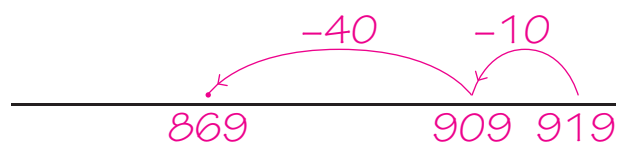
$624 - 80 = \underline{544}$
20 60



$453 - 70 = \underline{383}$
50 20



$536 - 60 = \underline{476}$
30 30



$919 - 50 = \underline{869}$
10 40

ga verder ➔

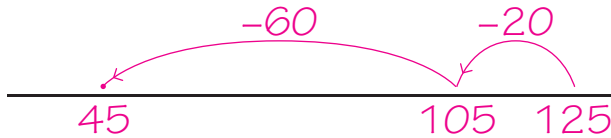


3

Welke som hoort erbij?

Reken uit op de getallenlijn in 2 sprongen.

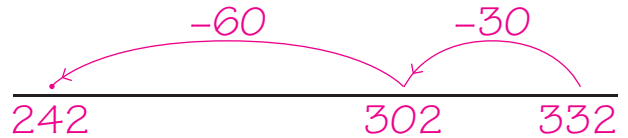
Er zit 125 gram meel in het pak.
80 gram is nodig voor een recept.
Hoeveel gram meel blijft er over?



som: $125 - 80 = 45$

antwoord: 45 gram

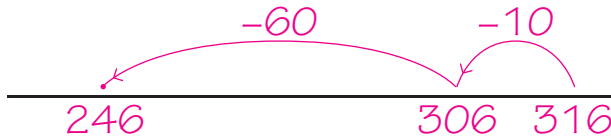
Liv heeft 332 euro gespaard.
Ze koopt schoenen van 90 euro.
Hoeveel euro houdt ze nog over?



som: $332 - 90 = 242$

antwoord: 242 euro

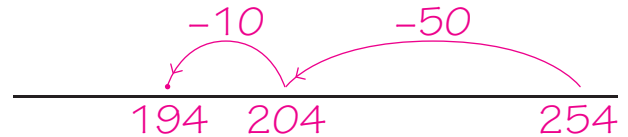
Sem bezorgt vandaag 316 folders.
Dat zijn er 70 meer dan gisteren.
Hoeveel folders bezorgde hij gisteren?



som: $316 - 70 = 246$

antwoord: 246 folders

Bo rijdt vandaag 254 kilometer.
Dat is 60 meer dan gisteren.
Hoeveel kilometer reed hij gisteren?



som: $254 - 60 = 194$

antwoord: 194 kilometer

4

Reken uit op de getallenlijn in 2 sprongen.

Maak de getallenlijn in je schrift.

$482 - 90 = 392$

$943 - 60 = 883$

$619 - 70 = 549$

$824 - 90 = 734$

$826 - 60 = 766$

$535 - 60 = 475$

$358 - 60 = 298$

$746 - 60 = 686$

Klaar!



doel 2

- ▶ Je oefent optellen tot en met 1000 met de basisstrategie: splitsen, bij sommen als $435 + 220$ en $435 + 224$.
- ▶ Je herkent de sommen waarbij je kunt splitsen.

hulp

$$435 + 224 = 659$$

$$400 + 200 = 600$$

$$30 + 20 = 50$$

$$5 + 4 = 9$$

$$600 + 50 + 9 = 659$$

1

Reken uit met splitsen of rijgen.

Laat zien hoe je rekent. Als je rijgt, gebruik dan een getallenlijn.

$$452 + 232 = \underline{684}$$

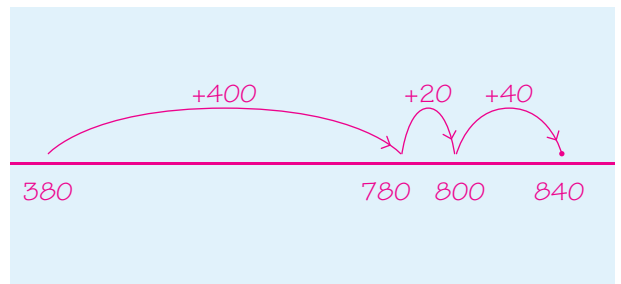
$$400 + 200 = 600$$

$$50 + 30 = 80$$

$$2 + 2 = 4$$

$$600 + 80 + 4 = 684$$

$$380 + 460 = \underline{840}$$



$$221 + 145 = \underline{366}$$

$$200 + 100 = 300$$

$$20 + 40 = 60$$

$$1 + 5 = 6$$

$$300 + 60 + 6 = 366$$

$$867 + 132 = \underline{999}$$

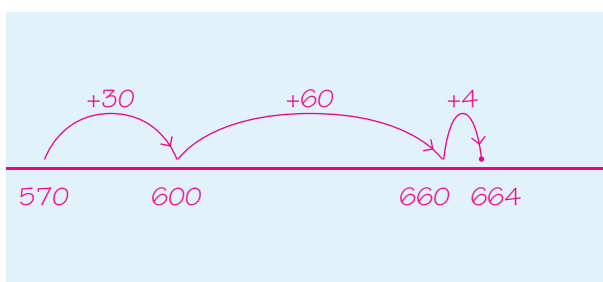
$$800 + 100 = 900$$

$$60 + 30 = 90$$

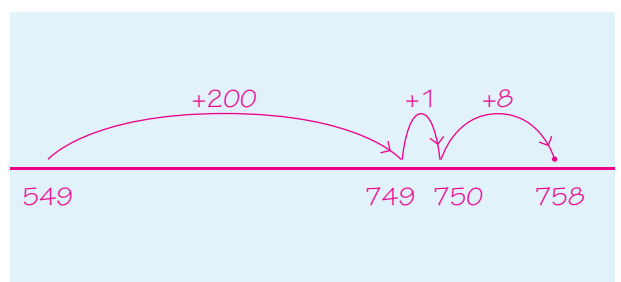
$$7 + 2 = 9$$

$$900 + 90 + 9 = 999$$

$$570 + 94 = \underline{664}$$



$$549 + 209 = \underline{758}$$





2

Kruis de sommen aan waarbij je gaat splitsen.

Reken alleen die sommen uit. Schrijf steeds 1 hulpsom op.
Doe het net als het voorbeeld.

$456 + 231 = 687$

$600 + 80 + 7 = 687$

$642 + 235 = 877$

$800 + 70 + 7 = 877$

$383 + 315 = 698$

$600 + 90 + 8 = 698$

$286 + 356 =$

$257 + 132 = 389$

$300 + 80 + 9 = 389$

$541 + 406 = 947$

$900 + 40 + 7 = 947$

3

Welke som hoort erbij?

Reken uit met splitsen. Schrijf ook de hulpsommen op.

Roan heeft 324 punten.
Hij krijgt er 262 punten bij.
Hoeveel punten heeft hij nu?

som: $324 + 262 = 586$

antwoord: 586 punten

$300 + 200 = 500$

$20 + 60 = 80$

$4 + 2 = 6$

$500 + 80 + 6 = 586$

Jack heeft 613 punten.
Hij krijgt er 375 punten bij.
Hoeveel punten heeft hij nu?

som: $613 + 375 = 988$

antwoord: 988 punten

$600 + 300 = 900$

$10 + 70 = 80$

$3 + 5 = 8$

$900 + 80 + 8 = 988$

Maandag werden er 121 broodjes verkocht. Dinsdag werden er 3 broodjes meer verkocht. Hoeveel broodjes werden er in totaal verkocht?

som: $121 + 124 = 245$

antwoord: 245 broodjes

$100 + 100 = 200$

$20 + 20 = 40$

$1 + 4 = 5$

$200 + 40 + 5 = 245$

Vandaag heeft de bezorger 202 pakketjes rondgebracht. Gisteren had hij 5 pakketjes meer rondgebracht. Hoeveel pakketjes heeft hij in totaal rondgebracht?

som: $202 + 207 = 409$

antwoord: 409 pakketjes

$200 + 200 = 400$

$2 + 7 = 9$

$400 + 9 = 409$

Klaar!



doel 3

► Je oefent deelsommen met en zonder rest vlot uit te rekenen met de keersom als hulpsom.

hulp

Hoeveel keer kan 7 af van 42? Ik zoek in de tafel van 7.

$$42 : 7 = 6$$

$$\text{hulpsom: } 6 \times 7 = 42$$

Hoeveel keer kan 7 af van 43? Ik zoek in de tafel van 7.

$$43 : 7 = 6 \text{ rest } 1$$

$$\text{hulpsom: } 6 \times 7 = 42$$

Hoeveel keer kan 7 af van 41? Ik zoek in de tafel van 7.

$$41 : 7 = 5 \text{ rest } 6$$

$$\text{hulpsom: } 5 \times 7 = 35$$

1

Zoek de hulpsom.

Reken uit.

$$54 : 6 = 9$$

$$\text{hulpsom: } 9 \times 6 = 54$$

$$56 : 7 = 8$$

$$\text{hulpsom: } 8 \times 7 = 56$$

$$40 : 8 = 5$$

$$\text{hulpsom: } 5 \times 8 = 40$$

$$35 : 7 = 5$$

$$\text{hulpsom: } 5 \times 7 = 35$$

$$28 : 4 = 7$$

$$\text{hulpsom: } 7 \times 4 = 28$$

$$90 : 10 = 9$$

$$\text{hulpsom: } 9 \times 10 = 90$$

$$14 : 2 = 7$$

$$\text{hulpsom: } 7 \times 2 = 14$$

$$36 : 4 = 9$$

$$\text{hulpsom: } 9 \times 4 = 36$$

$$27 : 9 = 3$$

$$\text{hulpsom: } 3 \times 9 = 27$$

2

Zet de bloemen in de vazen.

Welke deelsom en hulpsom horen erbij?

Hoeveel vazen zijn vol?

Zijn er bloemen over?



1 vaas	deelsom	hulpsom	vazen vol	rest
5 bloemen	$54 : 5$	$10 \times 5 = 50$	10	4
9 bloemen	$54 : 9$	$6 \times 9 = 54$	6	0
10 bloemen	$54 : 10$	$5 \times 10 = 50$	5	4
8 bloemen	$54 : 8$	$6 \times 8 = 48$	6	6

ga verder



**3****Reken uit.**

Denk aan de keersom als hulpsom.

$24 : 4 = 6$

$18 : 9 = 2$

$32 : 8 = 4$

$64 : 8 = 8$

$56 : 7 = 8$

$30 : 6 = 5$

$27 : 9 = 3$

$80 : 8 = 10$

$12 : 2 = 6$

$30 : 10 = 3$

$63 : 7 = 9$

$40 : 5 = 8$

4**Reken uit.**

Schrijf ook op hoeveel er over zijn.

$19 : 4 = 4 \text{ rest } 3$

$37 : 6 = 6 \text{ rest } 1$

hulpsom: $4 \times 4 = 16$

hulpsom: $6 \times 6 = 36$

$20 : 6 = 3 \text{ rest } 2$

$38 : 7 = 5 \text{ rest } 3$

hulpsom: $3 \times 6 = 18$

hulpsom: $5 \times 7 = 35$

$64 : 9 = 7 \text{ rest } 1$

$22 : 5 = 4 \text{ rest } 2$

hulpsom: $7 \times 9 = 63$

hulpsom: $4 \times 5 = 20$

$26 : 3 = 8 \text{ rest } 2$

$8 : 3 = 2 \text{ rest } 2$

hulpsom: $8 \times 3 = 24$

hulpsom: $2 \times 3 = 6$

$51 : 7 = 7 \text{ rest } 2$

$82 : 8 = 10 \text{ rest } 2$

hulpsom: $7 \times 7 = 49$

hulpsom: $10 \times 8 = 80$

$55 : 9 = 6 \text{ rest } 1$

$17 : 5 = 3 \text{ rest } 2$

hulpsom: $6 \times 9 = 54$

hulpsom: $3 \times 5 = 15$

Klaar!



doel 4

► Je oefent sommen als 4×69 uit te rekenen met de variastrategie: rekenen met te veel.

hulp

Een trui kost € 19,-.
Marlon koopt 3 truien.
Hoeveel moet zij betalen?

som: $3 \times 19 =$

rekenen met te veel: $3 \times 19 = 3 \times 20 - 3 \times 1 = 60 - 3 = 57$
antwoord: € 57,-




ik betaal: $3 \times 20 = 60$
te veel betaald: $3 \times 1 = 3$
= € 3,-

1

Welke som hoort erbij?

Teken en reken uit met te veel.

Op een terras liggen 8 tegels achter elkaar en 29 tegels naast elkaar.
Hoeveel tegels zijn dat?




som: $8 \times 29 = 232$

reken uit met te veel: $8 \times 30 - 8 \times 1 = 240 - 8 = 232$

antwoord: 232 tegels

Op een terras liggen 6 tegels achter elkaar en 37 tegels naast elkaar.
Hoeveel tegels zijn dat?



som: $6 \times 37 = 222$

reken uit met te veel: $6 \times 40 - 6 \times 3 = 240 - 18 = 222$

antwoord: 222 tegels

ga verder





2

Welke som hoort erbij?

Reken uit met te veel.

Saar koopt 6 truien.
Hoeveel moet zij betalen?



Kris koopt 4 broeken.
Hoeveel moet hij betalen?



som: $6 \times 38 = 6 \times 40 - 6 \times 2 =$
 $240 - 12 = 228$

antwoord: € 228,-

som: $4 \times 49 = 4 \times 50 - 4 \times 1 =$
 $200 - 4 = 196$

antwoord: € 196,-

Melle koopt 7 broeken.
Hoeveel moet hij betalen?

Bieke koopt 5 jassen.
Hoeveel moet zij betalen?

som: $7 \times 49 = 7 \times 50 - 7 \times 1 =$
 $350 - 7 = 343$

antwoord: € 343,-

som: $5 \times 88 = 5 \times 90 - 5 \times 2 =$
 $450 - 10 = 440$

antwoord: € 440,-

3

Reken uit met te veel.

$8 \times 39 = 8 \times 40 - 8 \times 1 = 320 - 8 = 312$

$4 \times 68 = 4 \times 70 - 4 \times 2 = 280 - 8 = 272$

$9 \times 28 = 9 \times 30 - 9 \times 2 = 270 - 18 = 252$

$6 \times 59 = 6 \times 60 - 6 \times 1 = 360 - 6 = 354$

$5 \times 78 = 5 \times 80 - 5 \times 2 = 400 - 10 = 390$

$3 \times 58 = 3 \times 60 - 3 \times 2 = 180 - 6 = 174$

$8 \times 48 = 8 \times 50 - 8 \times 2 = 400 - 16 = 384$

$4 \times 69 = 4 \times 70 - 4 \times 1 = 280 - 4 = 276$

$8 \times 18 = 8 \times 20 - 8 \times 2 = 160 - 16 = 144$

$7 \times 89 = 7 \times 90 - 7 \times 1 = 630 - 7 = 623$

4

Kruis de sommen aan waarbij je rekent met te veel.

Reken alleen die sommen uit.

$8 \times 33 =$

$5 \times 59 = 5 \times 60 - 5 \times 1 = 300 - 5 = 295$

$9 \times 45 =$

$4 \times 79 = 4 \times 80 - 4 \times 1 = 320 - 4 = 316$



doel 5

- ▶ Je oefent een jaarkalender af te lezen.
- ▶ Je oefent een datum te vinden in de maand ervoor en erna.

hulp

mei						juni						juli						
ma		7	14	21	28	ma		4	11	18	25	ma		2	9	16	23	30
di	1	8	15	22	29	di		5	12	19	26	di		3	10	17	24	31
wo	2	9	16	23	30	wo		6	13	20	27	wo		4	11	18	25	
do	3	10	17	24	31	do		7	14	21	28	do		5	12	19	26	
vr	4	11	18	25		vr	1	8	15	22	29	vr		6	13	20	27	
za	5	12	19	26		za	2	9	16	23	30	za		7	14	21	28	
zo	6	13	20	27		zo	3	10	17	24		zo	1	8	15	22	29	

Het is vrijdag 8 juni.
Eergisteren was het woensdag 6 juni.
Over precies 3 weken is het vrijdag 29 juni.

1

Kijk op de kalender.

maart					
ma		6	13	20	27
di		7	14	21	28
wo	1	8	15	22	29
do	2	9	16	23	30
vr	3	10	17	24	31
za	4	11	18	25	
zo	5	12	19	26	

april					
ma		3	10	17	24
di		4	11	18	25
wo		5	12	19	26
do		6	13	20	27
vr		7	14	21	28
za	1	8	15	22	29
zo	2	9	16	23	30

mei					
ma	1	8	15	22	29
di	2	9	16	23	30
wo	3	10	17	24	31
do	4	11	18	25	
vr	5	12	19	26	
za	6	13	20	27	
zo	7	14	21	28	

17 maart is eenvrijdag.

12 april is eenwoensdag.

21 mei is eenzondag.

Maart heeft5 vrijdagen.

Mei heeft4 donderdagen.

De laatste dag van mei is eenwoensdag.

ga verder





2 Kijk op de kalender van opgave 1.

Het is 16 april. Overmorgen is het dinsdag 18 april.

Het is 4 mei. Benthe is precies over 2 weken jarig. Dat is op donderdag 18 mei.

Het is 27 maart. Over precies 2 maanden is oma jarig. Dat is op zaterdag 27 mei.

Het is 27 mei. Senn is over een week jarig. Dat is op zaterdag 3 juni.

Het is 13 maart. Eergisteren was het zaterdag 11 maart.

Het is de eerste vrijdag van april. Precies 1 week later is het vrijdag 14 april.

Het is geen schrikkeljaar. Het is de eerste maandag van maart

Precies 1 week geleden was het maandag 27 februari.

Het is de laatste donderdag van mei. Over precies 1 week is het donderdag 1 juni.

3 Kijk op de kalender.

oktober						
ma		6	13	20	27	
di		7	14	21	28	
wo	1	8	15	22	29	
do	2	9	16	23	30	
vr	3	10	17	24	31	
za	4	11	18	25		
zo	5	12	19	26		

november						
ma		3	10	17	24	
di		4	11	18	25	
wo		5	12	19	26	
do		6	13	20	27	
vr		7	14	21	28	
za	1	8	15	22	29	
zo	2	9	16	23	30	

december						
ma	1	8	15	22	29	
di	2	9	16	23	30	
wo	3	10	17	24	31	
do	4	11	18	25		
vr	5	12	19	26		
za	6	13	20	27		
zo	7	14	21	28		

Het is 24 oktober. Liam is precies over 2 weken jarig. Dat is op vrijdag

7 november. Het is de eerste woensdag van oktober. Precies 1 week geleden was

het woensdag 24 september. Het is de laatste zondag van november. Over precies

2 weken is het zondag 14 december. Het is 4 december. Luuk is precies

6 weken oud. Luuk is geboren op donderdag 23 oktober. Het is 18 oktober.

Noa is precies over 4 weken jarig. Dat is op zaterdag 15 november. Het is

29 december.

Over een week is het maandag 5 januari. Het is de eerste woensdag van

november. Precies 3 weken geleden was het woensdag 15 oktober.

Felix is geboren op maandag 13 oktober. Ruben is precies 2 weken eerder geboren.

Ruben is geboren op maandag 29 september.

Klaar!